

ШИФР 7.15

508.

Дата 27.11.2020

Олимпиадная работа по Истории

Ученика (цы) 7 класса школы (гимназии, лицея, интерната) № 58

Аудитория № 105

ФИО Тораника Владимира Константиновича

Дата рождения 05.12.2007

Учитель Саморукова Анастасия Викторовна

**МУНИЦИПАЛЬНЫЙ ЭТАП
ВСЕРОССИЙСКОЙ ОЛИМПИАДЫ ШКОЛЬНИКОВ ПО ИСТОРИИ
2020/2021 учебного года
7 класс.**

Задание 1. Выберите один правильный ответ. По 1 баллу за каждый верный ответ. Всего 5 баллов.

1.1. Первый свод древнерусского права назывался:

- а) «Правда Ярославичей»;
- б) «Соборное уложение»;
- в) «Русская Правда»;
- г) «Судебник».

+ 1

1.2. Первый каменный Кремль в Москве был построен при:

- а) Иване I Даниловиче;
- б) Иване II Красном;
- в) Дмитрии Ивановиче;
- г) Василии I Дмитриевиче.

+ 1

1.3. Наибольшего могущества Рязанское княжество достигло:

- а) во второй половине XII века;
- б) в первой трети XIII века;
- в) в первой половине XIV века;
- г) во второй половине XIV века.

-

1.4. К категориям зависимого населения Древнерусского государства не относят:

- а) холопы;
- б) рядовичи;
- в) людины;
- г) закупы.

+ 1

1.5. В Избранную раду не входил:

- а) митрополит Макарий;
- б) Малюта Скуратов;
- в) Андрей Курбский;
- г) дьяк Иван Висковатый.

-

1	2	3	4	5
6	6	6	6	6
1	2	3	4	5

Задание 2. Выберите несколько правильных ответов. По 2 балла за правильно выполненное задание. За 1 ошибку – 1 балл. Всего 6 баллов.

2.1. Соседями восточных славян были

- а) мордва;
- б) дреговичи;
- в) белые хорваты;
- г) весь;
- д) хозары;
- е) тиверцы.

2.2. Какие из перечисленных событий относятся к XIII в.?

- а) феодальная война в Московском княжестве;
- б) разорение Рязани Батыем;
- в) образование Ливонского ордена;
- г) Новгородская война в Московском княжестве;
- д) строительство Дмитриевского собора во Владимире;
- е) битва на реке Вожа.

2.3. К процессу объединения русских земель вокруг Москвы не относят события?

- а) битва на реке Шелонь;
- б) стояние на Угре;
- в) сражение на реке Пяна;
- г) битва при Молодах;
- д) спор Ивана III со своими братьями по поводу Тверского княжества;
- е) русско-литовская война 1512-1522 гг.

2.1	2.2	2.3
6, б, в	б	б, в, г, д, з
2	2	3

7.15

1 | 2 | 3 | 4 | 5 | 6 | 7 | 8 | 9 | 10 | 11 | 12 | 13 | 14 | 15 | 16 | 17 | 18 | 19 | 20

3 | 1 | 3 | 10 | 6 | 12 | 9 | 6 | 50

2 мест из 3

2

Задание 3. Завершите (восстановите) предложение (текст), вписав пропущенное слово (слова). 1 балл за каждый правильный ответ, всего – 6 баллов.

3.1. Книгиня Ольга в период своего правления надела порядок в налогообложении. Его были установлены твердый размер дани – векер и места сборов дани – капищ.

3.2. В 1439 г. была подписана Флорентийская уния между католиками и православными церквами, которая признавала главенство Папы Римского над всеми христианскими. Русская православная церковь не признала Флорентийскую унию и в 1459 г. стала самостоятельной от Византии.

Задание 4. Соотнесите столбцы. За каждый правильный ответ – 1 балл. Всего – 12 баллов.

4.1. События российской и зарубежной истории

1. Призвание варягов	А Экспедиция Васко да Гама
2. Строительство собора Святой Софии в Новгороде	Б Крестянская война в Германии
3. Куликовская битва	В Восстание Уота Тайлера
4. Судебник Ивана III	Г Завоевание Англии Вильгельмом Нормандским
5. Присоединение Рязани к Москве	Д Раздел империи Карла Великого

Ответ:

1	2	3	4	5
<u>В</u>	<u>Д</u>	<u>Б</u>	<u>А</u>	<u>Г</u>

4.2. Установите соответствие между историческими лицами и событиями, с ними связанными:

Исторические лица	Исторические события
Владимир Святославович	1. Стоглавый собор
Дмитрий Донской	2. Реформа княчества
Даниил Александрович	3. Присоединение Нижнего Новгорода к Москве
Иван I Данилович	4. Строительство первого каменного Кремля в Москве
Василий I Дмитриевич	5. Перенос митрополичьей кафедры в Москву
Иван III Васильевич	6. Образование Московского княжества
Иван IV Васильевич	7. Присоединение Новгорода Великого к Москве

Ответ:

Владимир Святославович	Дмитрий Донской	Даниил Александрович	Иван I Данилович	Василий I Дмитриевич	Иван III Васильевич	Иван IV Васильевич
<u>6</u>	<u>4</u>	<u>5</u>	<u>8</u>	<u>3</u>	<u>7</u>	<u>1</u>

Задание 5. Перед Вами карта, на которой обозначены годы и места, где произошли важные события древнерусской истории, связанные с разными князьями, имена которых перечислены в представленной в бланках таблице.

5.1. Во второй колонке, представленной в бланке таблицы, запишите события, годы которых указаны на карте. Каждое из событий должно быть указано в той строке таблицы, где написано имя князя, с деятельностью которого это событие связано.

5.2. В третьей колонке таблицы запишите цифры, которыми обозначены города и страны, где произошли соответствующие события, и название каждого места.

За каждый правильно заполненный ряд по 3 балла. За ряд с одной ошибкой – 2 балла. Всего – 21 балл.

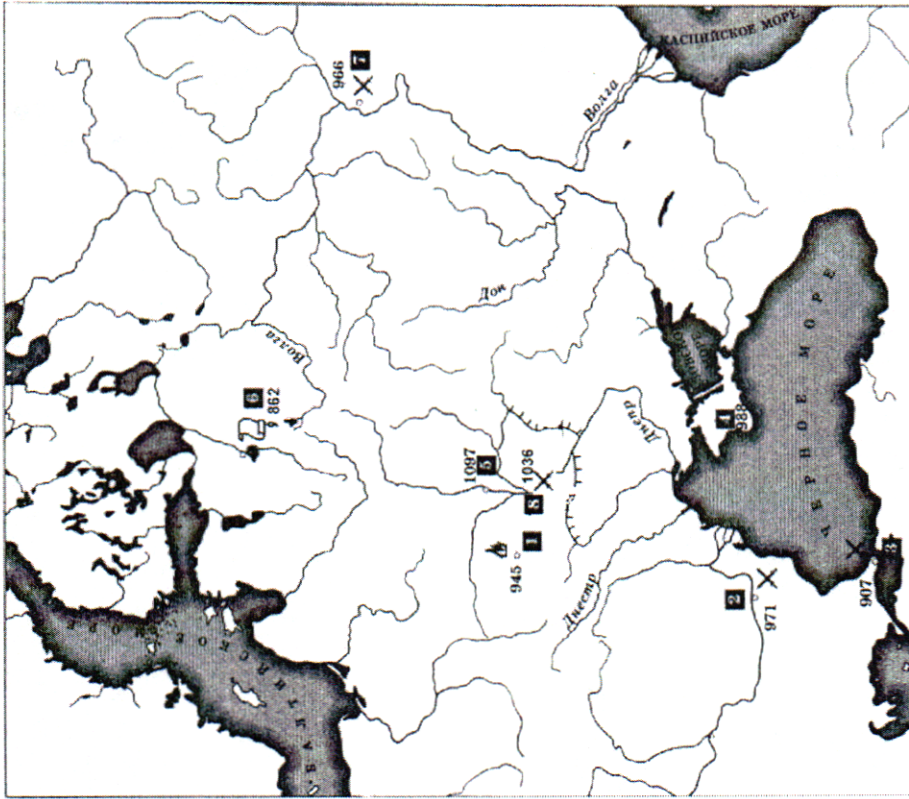
4. Рязанский князь Олег Иванович не принимал участие в битве на реке Вожа.
5. Процесс объединения русских земель вокруг Москвы завершился при Иване III.
6. Первым из русских правителей, кого называли «царем», был Иван Грозный.
7. В строительстве Московского Кремля при Иване III принимали участие иностранные архитекторы.
8. Во времена опричнины в земщине правила только боярская Дума.
9. Автором теории «Москва – Третий Рим» является монах Филофей.

Ответ:

1	2	3	4	5	6	7	8	9
да	да	нет	да	нет	нет	да	нет	да
-	-	-	+	+	+	+	+	+

Таблица оценивания для жюри:

Задание	1	2	3	4	5	6	7	8	Итого
1 член жюри									
2 член жюри									



Ответ:

Князья	События	Географическое название с соответствующей ему цифрой на карте
Владимир Святославич	Присоединение Рязни	7
Александр Невский	Строительство Боровиц	8
Андрей Боголюбский		4
Иван I		
Иван IV	Штурм Польши	8
Филипп	призвание на княжение в Новгород	3
Дмитрий Донской	Битва с Золотой Ордой	2
Святослав	Взятие Киевля	4
Святослав, битва с печенегами		
Владимир Кривоустый	Битва с печенегами	1

2000021007.15

Задание 6. Каждый историк должен уметь работать с историческим источником.
Прочитайте текст и ответьте на вопросы. Всего за задание 26 баллов.

«Ко всему этому злу добавилось ещё и раннее сиротство, ибо остался Иоанн с годовых лет (всего около двух лет) без отца, а вскоре и без матери, и воспитывали его гордые бояре, которые, на беду свою и своего потомства, лестили и угоджали ему во всем».

Еще в раннем возрасте творил он злые дела, а глупые его воспитатели не препятствовали ему, а, напротив, хвалили и поощряли ко всему плохому. Когда же Иоанну минуло пятнадцать лет, начал он губить людей. Он собрал вокруг себя детей своих родственников и детей бояр, стал ездить вместе с ними по дорогам и торговым площадям и творить злые разбойные дела. Когда же вступил он в свои семнадцатилетие, то бояре стали подучать его мстить своим личным врагам, направляя его то против одного, то против другого.

Бесчинства царя Иоанна можно сравнить с нашествием царя казанского, от которого терпела Московия кровопролитие и опустошение земель на восемьдесят миль в окрестностях Москвы. От перекосного, крымского и ногайского царей вся Рязанская земля по самый берег реки Оки была опустошена, а внутри разоружена и опустошена человекомудлинками с могольским царем, нещадно воюющим своё отечество.

Иоанн своими бесчисленными злыми делами стал превосходить вышеописанные беды, и тогда Господь, решив усмирить его лютость, подал ему знак, обрушив на Москву великий пожар. Из-за того пожара развалилось столь великое возмущение всего народа московского, что сам царь принужден был спрятаться со всем своим двором. В том восстании был убит дядя царя, князь Юрий, а двор его разграблен народом, но другой его дядя, князь Михаил, известным своими злоупотреблениями, бежал вместе со своими приспешниками.

Таким знаком Бог подал руку помощи земле христианской, дав ей возможность отдохнуть. К царю Иоанну явился пророк <...>, ролом из Великого Новгорода, и страшным заклятием из Священного Писания угрозил царю, а также представил ему чудеса, как бы явленные от Бога (не могу сказать: истинные те чудеса были, или пугал пророк царя, как пугают родителей детей своих), чтобы с их помощью пресечь его буйства и умерить неистовый нрав. Подобным образом часто поступают врачи, когда им приходится изменять гангрены. Так и <...> исцелил душу царя от проказы и исправил его развращенный ум, наставляя его на истинную стезю. Пророку содействовал в этом и благородный юноша Алексей <...>, который сам был полюбен ангелу и явно отпущен Богом от всех других».

6.1. Назовите: а) царя, о котором идет речь в источнике; б) отца и мать царя. (По 2 балла за верно указанное имя. Итого 6 баллов.)

6.2. С какими бедами сравнивает автор «бесчинства» могололо царя? Укажите 2 сравнения. (По 3 балла за каждое верное сравнение. Итого 6 баллов.)

6.3. Укажите год, когда случился «великий пожар», о котором пишет автор. В чем автор видит причину «великого пожара»? (2 балла за верную дату, 3 балла за причину. Итого – 5 баллов.)

6.4. Кто, по мнению автора, «наставлял царя на истинную стезю»? Назовите этих людей (има одно и фамилия другого, пропущены в тексте). (По 2 балла за верно указанное имя. Итого 4 балла.)

6.5. Подерживал ли автор историчника политику царя, описанную в документе? Используя текст, аргументируйте свою точку зрения. Приведите все возможные аргументы. (До 5 баллов за верно приведенные аргументы).

Ответ:

6.1. Иоанн IV Васильевич (Грозный), Василий III, Елена Глинская


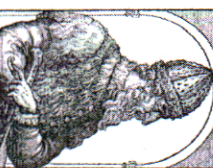







6.2. Восточнее царя Чингиса, севернее египетских фараонов, Иллирия, Иллирия

6.3. 1547 г., бояре боя за буйствами царя Иоанна, развращенные люди

6.4. Пророк, родом из Великого Новгорода.

6.5. Автор не поддерживает политику Иоанна Васильевича царя, описанную в документе. Он считает, что царь Иоанн IV Грозный был развращен и жесток. Автор считает, что царь Иоанн IV Грозный был развращен и жесток.

Задание 7. Перел. Вами изображения трех русских правителей Российского государства и изображения архитектурных памятников. Ваша задача – подписать правителей и сопоставить их с памятниками, в чье правление они были созданы. Ответы внесите в таблицу. Максимум за задание - 15 баллов (по 1 баллу за каждое правильное определение личности; по 1 баллу за каждое правильное соотношение между личностью и памятником. Дополнительно 6 баллов выставляются, если учащиеся определяют памятник архитектуры).

			
А	Иван III	Иван III	Иван IV
1			
2	1. Церковь Возрождения	2.	3. Звонница Бориса (Владимирский собор)
4.			
	5. Архангельский собор (Ивановский)	6. Владимирский собор в Москве	

Ответ:

Имя правителя	А	Б	В
Номера памятников	Иван III, 3	Иван III, 4	Иван IV, 5

Задание 8. Перед Вами 9 утверждений. Прочитайте внимательно их и определите, верны ли они. (За каждый правильный ответ 1 балл. Всего – 9 баллов.)

- «Слово о полку Игореве» это произведение, повествующее о борьбе Руси против печенегов.
- Древнерусское государство распалось на самостоятельные княжества в 1125 г. (после смерти Владимира Мономаха).
- «Залонщина» Сафрония Рязаница была создана раньше, чем «Сказание о Мамаевом побоище»