

Тесты по ПДД (начальная школа 3-4 кл.)

1. Инструкция: определите, какое утверждение верно.

1. Пешеход при переходе проезжей части дороги должен посмотреть налево, затем направо и, убедившись в безопасности, пересечь проезжую часть.
2. Пешеход при переходе проезжей части дороги должен посмотреть налево, потом направо и опять налево, убедившись в безопасности, пересечь проезжую часть, контролируя ситуацию.





2. Инструкция: выберите правильный ответ.

Пешеходы, находящиеся вне населенных пунктов, должны иметь при себе _____ и обеспечивать видимость этих предметов водителям транспортных средств.

1. Фонарь
2. Световозвращающие элементы.
3. Средства пассивной защиты.
4. Телефон с фонариком

3. Инструкция: подберите к каждому изображению дорожного знака его правильное название.

В левом столбце изображены дорожные знаки, а в правом написаны их названия, соедините их стрелочками.

1. 	А. Дети
2. 	Б. Пешеходная дорожка
3. 	В. Пешеходная и велосипедная дорожка с совмещенным движением
4. 	Г. Пешеходный переход

4. Инструкция: самостоятельно дополните определение, используя предложенные варианты.

_____ дорожка – обустроенная или приспособленная для движения _____ полоса _____ либо поверхность искусственного сооружения, обозначенная знаком .



1. Пешеходная, пешеходов, земли.
2. Велосипедная, велосипедистов, тротуара.
3. Автомобильная, водителей, дороги.

5. Инструкция: посмотрите на картинку, проанализируйте ситуацию и определите, как должен поступить пешеход. Выберите правильный ответ.

На перекрестке сломался светофор и на помощь пришёл регулировщик. Выбери правильный вариант перехода проезжей части дороги при таком сигнале регулировщика.

1 Переходить проезжую часть дороги можно только с левой и правой стороны от регулировщика вдоль вытянутых рук.



2. Перейти проезжую часть дороги с любой стороны, если транспортные средства остановились, так как пешеходы находятся в зоне пешеходного перехода.

6. *Инструкция:* проанализируйте ситуацию, изображенную на картинке, выберите правильный вариант ответа.



Какой дорожный знак должен быть установлен в данном месте.



7. *Инструкция:* выберите правильный ответ.

Миша и Петя катались на велосипедах во дворе дома, позже решили поехать кататься в парк. Для этого ребятам нужно было пересечь проезжую часть дороги по пешеходному переходу. Определите, кто из мальчиков нарушает правила дорожного движения, если Миша в зелёном велошлеме, а Петя - в оранжевом.



1. Петя (в оранжевом велошлеме).
2. Миша (в зеленом велошлеме).
3. Миша и Петя соблюдают правила, так как пересекают проезжую часть дороги по пешеходному переходу.

8. *Инструкция:* определить какое утверждение верно.

1. В соответствии с правилами дорожного движения люди, передвигающиеся на роликах и самокатах, приравниваются к пешеходам.
2. В соответствии с правилами дорожного движения люди, передвигающиеся на роликах и самокатах, приравниваются к водителям транспортных средств.

9. *Инструкция:* посмотрите на картинку, выберите правильный ответ.

Максим предложил Кате покататься на велосипеде. Максиму уже 16 лет, а Кате - 10 лет, определите, может ли Максим перевозить пассажира на своём велосипеде в данной ситуации?



1. Максим может перевозить пассажира на своём велосипеде, при наличии стажа вождения не менее 2 лет.
2. Максим может перевозить пассажира на своём велосипеде, если будет ехать по правому краю проезжей части.
3. Максиму запрещено перевозить пассажира на своём велосипеде.

10. *Инструкция:* самостоятельно дополните определение, используя предложенные варианты.

В легковом автомобиле перевозка детей до ____ лет возможна с использованием _____.

1. Десяти, детского удерживающего устройства.
2. Штатных ремней безопасности.
3. Двенадцати, детского удерживающего устройства или ремней безопасности.

