

Тест по ПДД (5-8 кл.)







1. *Инструкция: самостоятельно дополните определение, используя предложенные варианты.*

Пешеход – это лицо, находящееся вне транспортного средства на дороге, либо на _____ и не производящее работу на ней.

1. Тротуаре или обочине.
2. Пешеходной или велопешеходной дорожке.
3. Проезжей части дороги.

2. *Инструкция: подберите к каждому дорожному знаку, изображенному ниже, правильное место установки*

В левом столбике изображены дорожные знаки, а в правом изображены места их установки. Сопоставьте их между собой. Соедините их стрелочками.

| | |
|---|---|
| 1.  | А.  |
| 2.  | Б.  |
| 3.  | В.  |

3. *Инструкция: выберите правильный ответ.*

Пешеходам разрешено движение по проезжей части дороги в зоне действия дорожного знака «Жилая зона», если:

1. На улице светло.
2. Пешеход не создаёт не обоснованных помех транспортным средствам.
3. Всегда запрещается.



4 *Инструкция: определите, какое утверждение верно.*

1. Знак «Пешеходная зона» определяет территорию, предназначенную для движения пешеходов. В зоне действия этого знака запрещено движение всем транспортным средствам.

2. Знак «Пешеходная зона» определяет территорию, предназначенную для движения пешеходов. В зоне действия этого знака разрешено движение велосипедистам и водителям мопедов.

5. *Инструкция: выберите правильный ответ.*

Есть ли у велосипеда тормозной путь?

1. В зависимости от модели велосипеда
2. Да, как у любого транспортного средства
3. Нет

6. *Инструкция: самостоятельно дополните определение, используя предложенные варианты.*

Допускается движение велосипедистов в возрасте старше ____ по _____ краю проезжей части, при условии отсутствия _____ и велосипедной дорожки, _____ для велосипедистов либо отсутствует возможность _____ по ним.

1. 14, правому, велосипедной, полосы, двигаться.
2. 12, левому, пешеходной, дорожки, ехать.
3. 14, правому, пешеходной, полосы, передвигаться.

7. *Инструкция: проанализируйте ситуацию, изображенную на картинке. Выберите правильный ответ.*

Взрослый велосипедист движется вне населенного пункта по проезжей части дороги. Как должен двигаться велосипедист в данной ситуации.



1. По ходу движения транспортных средств.
2. Навстречу движению транспортных средств.
3. Велосипедисту запрещено движение по проезжей части.

8. *Инструкция: посмотрите на картинку, проанализируйте ситуацию. Выберите правильный ответ.*

Разрешено ли юноше передвигаться на электросамокате по проезжей части таким образом?

1. Разрешено, но только в светлое время суток.
2. Разрешено, так как на юноше надет шлем.
3. Запрещено.



9. *Инструкция: дополните предложение, выберите правильный ответ.*

Согласно правилам дорожного движения, пассажиру запрещается...:

1. Передвигаться по салону транспортного средства во время движения.
2. Открывать двери транспортного средства во время движения.
3. Открывать окна транспортного средства во время движения.

10. *Инструкция: определите, какое утверждение верно.*

1. Тормозной путь автомобиля уменьшится, если торможение происходит на скользкой дороге.
2. Тормозной путь автомобиля увеличится, если торможение происходит на скользкой дороге.